

# Rozhledy matematicko-fyzikální

---

Jiří Lach

Ortocentrické čtveřice bodů a trojúhelníků

*Rozhledy matematicko-fyzikální*, Vol. 95 (2020), No. 3, 8–13

Persistent URL: <http://dml.cz/dmlcz/148457>

## Terms of use:

© Jednota českých matematiků a fyziků, 2020

Institute of Mathematics of the Czech Academy of Sciences provides access to digitized documents strictly for personal use. Each copy of any part of this document must contain these *Terms of use*.



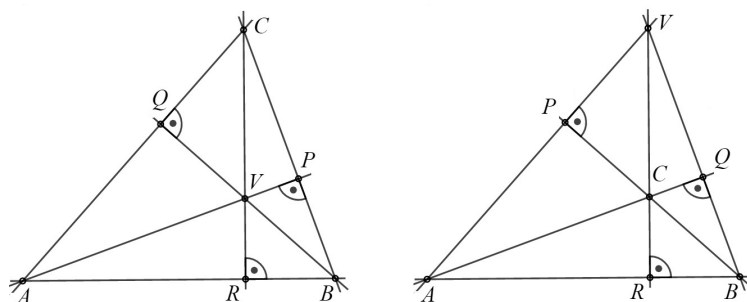
This document has been digitized, optimized for electronic delivery and stamped with digital signature within the project *DML-CZ*:  
*The Czech Digital Mathematics Library* <http://dml.cz>

## Ortocentrické čtveřice bodů a trojúhelníků

*Jiří Lach, Gymnázium Matyáše Lercha, Brno*

**Abstrakt.** Článek se zabývá vlastnostmi čtveřice bodů, které tvoří vrcholy obecného trojúhelníku a jeho ortocentrum. Těchto vlastností pak využijeme v konstrukční úloze a dále také zjistíme, jakou vlastnost tyto body mají, budeme-li uvažovat ortický trojúhelník k danému trojúhelníku.

Učivo o trojúhelnících je nedílnou součástí každého vzdělávacího programu jak na základních, tak i středních školách. Každý z vás si jistě některou část tohoto učiva vybaví. V našem článku se seznámíme s pozoruhodnými vlastnostmi čtveřic bodů, které dostaneme, když ke trojici vrcholů  $A, B, C$  obecného trojúhelníku připojíme jako čtvrtý bod  $V$  – průsečík jeho výšek  $AP, BQ, CR$ , zvaný *ortocentrum* trojúhelníku  $ABC$ . Dva druhy takovýchto čtveřic bodů vidíte na obr. 1, nalevo pro ostroúhlý trojúhelník a napravo pro trojúhelník tupoúhlý, u kterého je třeba chápat výšky jako přímky, nikoliv jako úsečky. Jistě si snadno rozmyslíte, proč v článku o takovýchto čtveřicích bodů pomineme pravoúhlé trojúhelníky.



Obr. 1: Body  $A, B, C$  a  $V$  v různých pozicích

Ortocentrem každého obecného (dále vždy nepravoúhlého) trojúhelníku  $ABC$  je jediný bod  $V$  jeho roviny, pro který platí konjunkce tří kolmostí

$$\overleftrightarrow{AB} \perp \overleftrightarrow{CV} \wedge \overleftrightarrow{BC} \perp \overleftrightarrow{AV} \wedge \overleftrightarrow{AC} \perp \overleftrightarrow{BV}.$$

Jistě jste si povšimli, že oba náčrtky na obr. 1 jsou až na označení čtveřice bodů písmeny  $A, B, C$  a  $V$  geometricky shodné. Navíc, jak možná s překvapením zjistíte, na obou z nich je každý ze čtyř bodů  $A, B, C$  a  $V$  ortocentrem trojúhelníku tvořeného zbylými třemi body. (Doporučujeme, abyste třeba všechny tři výšky trojúhelníku  $ABV$  dvojicemi jejich bodů určili.) Rovnocennost rolí bodů  $A, B, C, V$  v takové situaci přivedla matematiky k následující definici.

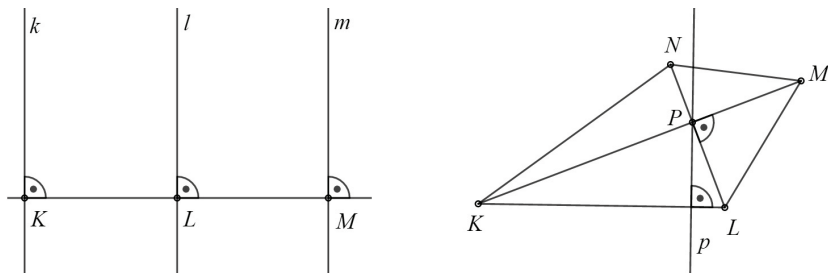
**Definice 1.** Řekneme, že čtveřice  $K, L, M, N$  navzájem různých bodů téže roviny je *ortocentrická*, jestliže jsou navzájem kolmé jak přímky  $KL$  a  $MN$ , tak přímky  $KM$  a  $LN$  a také přímky  $KN$  a  $LM$ . V této situaci čtveřici trojúhelníků  $KLM, KLN, KMN$  a  $LMN$ , jejichž ortocentra jsou po řadě body  $N, M, L$  a  $K$ , nazveme *ortocentrickou*.

Po zavedení nového pojmu nás při zkoumání vlastností ortocentrické čtveřice trojúhelníků asi nejprve napadne otázka, zda každá ortocentrická čtveřice trojúhelníků  $KLM, KLN, KMN$  a  $LMN$  vypadá tak, jako na obr. 1: tři z těchto trojúhelníků jsou tupouhlé a stýkají se podél společných stran tak, že jejich sjednocením je zbývající čtvrtý trojúhelník, který je ostroúhlý. K důkazu kladné odpovědi na tuto otázku, kterou uvedeme vzápětí jako větu 1, využijeme poznatek, který známe z hodin planimetrie ve škole: *Daný trojúhelník je ostroúhlý (resp. tupouhlý) právě tehdy, když jeho ortocentrum leží uvnitř (resp. vně) daného trojúhelníku.*

**Věta 1.** *Některý z libovolné ortocentrické čtveřice bodů leží uvnitř trojúhelníku s vrcholy v ostatních třech bodech této čtveřice.*

*Důkaz.* Stačí ukázat, že žádné tři z bodů  $K, L, M, N$  tvořících ortocentrickou čtveřici neleží v jedné přímce a že všechny čtyři body  $K, L, M, N$  nejsou vrcholy konvexního čtyřúhelníku. K ověření obou tvrzení sporem využijeme náčrtků z obr. 2. Kdyby např. body  $K, L, M$  ležely v jedné přímce, z relací  $KN \perp LM, LN \perp KM$  a  $MN \perp KL$  by vyplynulo, že bod  $N$  by musel ležet na každé ze znázorněných kolmic  $k, l, m$ , které jsou ovšem rovnoběžky a nemají tedy žádný společný bod.

Kdyby body  $K, L, M, N$  byly vrcholy konvexního čtyřúhelníku jako na obrázku, jeho navzájem kolmé uhlopříčky  $KM$  a  $LN$  by se protály v bodě  $P$ . Z podmínky  $KL \perp MN$  by vyplynulo, že přímka  $MN$  by musela být rovnoběžná s přímkou  $p$  vedenou bodem  $P$  kolmo k přímce  $KL$ . Tato přímka však rozděluje pravý úhel  $KPL$ , a tedy i k němu vrcholový úhel  $MPN$ , a tak body  $M$  a  $N$  odděluje. Nemůže proto platit  $MN \parallel p$ .  $\square$



Obr. 2: K důkazu věty 1

Dokázaná věta 1 má pro zkoumání ortocentrických čtveřic velký význam. Vždy totiž můžeme předpokládat, že daná ortocentrická čtveřice je tvořena třemi vrcholy ostroúhlého trojúhelníku a jeho ortocentrem. Uplatníme to v dalším textu s velkou výhodou.

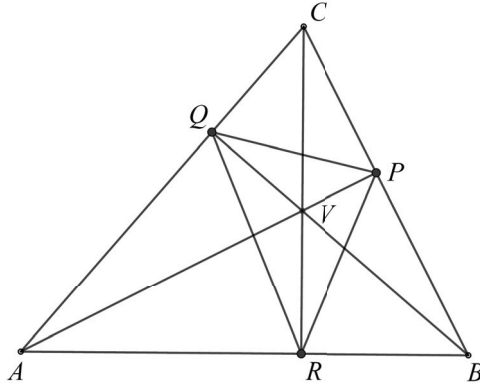
Podívejme se nyní, jak s tématem ortocentrických čtveřic souvisí významné body trojúhelníků, *paty výšek*. Je zřejmé, že pokud průsečíky kolmic  $KL$  a  $MN$ ,  $KM$  a  $LN$ , respektive  $KN$  a  $LM$ , o kterých se píše v definici ortocentrické čtveřice  $K, L, M, N$ , označíme  $P, Q, R$ , pak tyto body jsou patami výšek *všech čtyř* trojúhelníků  $KLM, KLN, KMN$  a  $LMN$  (připomeňte si obr. 1 s pomyslnou záměnou bodů  $A, B, C$  a  $V$  čtveřicí  $K, L, M, N$  v jakémkoliv pořadí). Protože jeden z trojúhelníků  $KLM, KLN, KMN$  a  $LMN$  je vždy ostroúhlý, jsou paty výšek  $P, Q, R$  vnitřními body jeho stran, což znamená, že neleží v jedné přímce a tvoří tedy vrcholy trojúhelníku. Jsou-li tedy  $AP, BQ$  a  $CR$  výšky obecného trojúhelníku  $ABC$ , pak vždy existuje trojúhelník  $PQR$ . Říkáme, že trojúhelník  $PQR$  je *ortický trojúhelník* daného trojúhelníku  $ABC$ .

V předchozím odstavci jsme vysvětlili, že pokud je trojúhelník  $PQR$  ortický k některému trojúhelníku, je dokonce společným ortickým trojúhelníkem alespoň čtyř trojúhelníků. Jak nyní ukážeme, naopak pro *každý* trojúhelník  $PQR$  v rovině existují právě čtyři trojúhelníky s patami výšek v daných bodech  $P, Q, R$ . Je jasné, že tyto čtyři trojúhelníky tvoří ortocentrickou čtveřici a my v řešení následujícího příkladu ukážeme, jak tuto čtveřici sestojit.

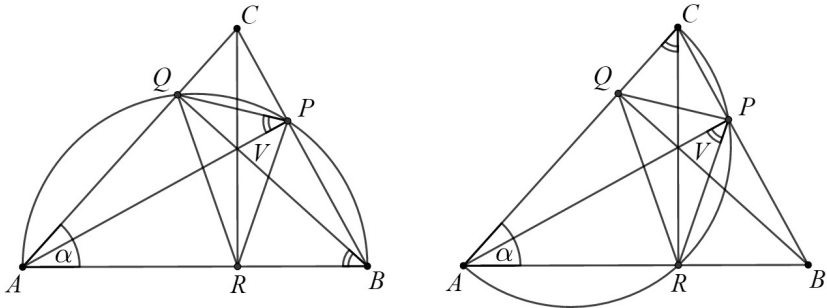
**Příklad 1.** V rovině jsou dány body  $P, Q, R$ , které neleží v jedné přímce. Sestrojte trojúhelník s patami výšek  $P, Q, R$ .

*Řešení.* Na základě předchozích poznatků již můžeme říct, že každým řešením této úlohy bude ortocentrická čtveřice bodů  $A, B, C, V$ , kterou tvoří ostroúhlý trojúhelník  $ABC$  a tři tupoúhlé trojúhelníky  $ABV, ACV$

a  $BCV$  (viz obr. 3). Jejich konstrukční nalezení bude spočívat v následujících úvahách. Vzhledem k tomu, že výšky trojúhelníku jsou vždy na jeho strany kolmé, jsou trojúhelníky  $ABQ$  a  $ABP$  pravoúhlé s pravými úhly u vrcholů  $P$  a  $Q$ . Z toho vyplývá, že body  $P$  a  $Q$  leží na Thaletově kružnici nad průměrem  $AB$ , jak můžeme vidět na obr. 4 vlevo.



Obr. 3: Ortocentrická čtveřice trojúhelníků s patami výšek  $P, Q, R$



Obr. 4: Thaletovy kružnice nad průměry  $AB$  a  $AC$

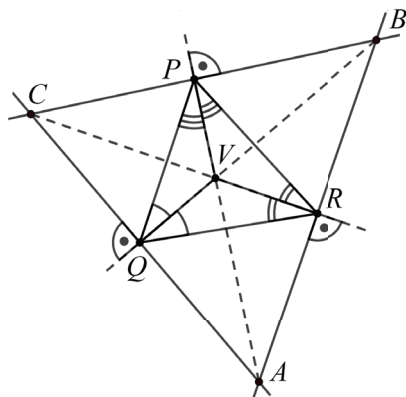
Částí této kružnice je oblouk  $AQ$ , jemuž náleží obvodové úhly  $ABQ$  a  $APQ$ , které mají stejnou velikost. Vyjádříme ji z pravoúhlého trojúhelníku  $ABQ$ :  $|\sphericalangle ABQ| = |\sphericalangle APQ| = 90^\circ - \alpha$ .

Nyní se podívejme na Thaletovu kružnici nad průměrem  $AC$ , která je znázorněna na obr. 4 vpravo. Leží na ní oblouk  $AR$ , jemuž přísluší obvodové úhly  $RCA$  a  $RPA$ . Z pravoúhlého trojúhelníku  $ARC$  plyne, že

$$|\sphericalangle RCA| = |\sphericalangle RPA| = 90^\circ - \alpha.$$

Dokázali jsme tedy rovnost  $|\sphericalangle APQ| = |\sphericalangle RPA|$ . Podobně bychom mohli ukázat, že platí rovnosti  $|\sphericalangle PQB| = |\sphericalangle BQR|$  a  $|\sphericalangle QRC| = |\sphericalangle CRP|$ . Tímto jsme dokázali, že výšky  $AP$ ,  $BQ$  a  $CR$  hledaného ostroúhlého trojúhelníku  $ABC$  leží na osách vnitřních úhlů jeho ortického trojúhelníku  $PQR$ .

Nyní již lze konstrukci řešení příkladu 1 snadno popsat. V trojúhelníku  $PQR$  sestrojíme osy vnitřních úhlů a jejich průsečík označíme  $V$ . V dalším kroku vedeme každým z bodů  $P$ ,  $Q$ ,  $R$  kolmici k sestrojené ose, která z tohoto bodu vychází (obr. 5). Průsečíky těchto tří kolmic označíme  $A$ ,  $B$ ,  $C$ . Řešením příkladu 1 pak jsou právě čtyři trojúhelníky: ostroúhlý trojúhelník  $ABC$  a tři tupouhlé trojúhelníky  $ABV$ ,  $BCV$  a  $ACV$ .



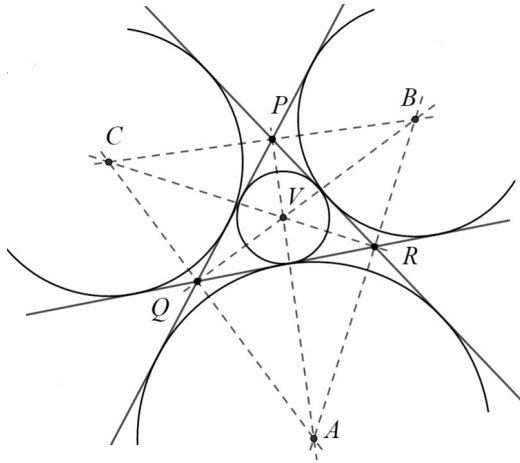
Obr. 5: Konstrukce řešení příkladu 1

Řešení příkladu 1 ukončíme důkazem správnosti konstrukce z obr. 5. Ten provedeme, když ukážeme, že body  $A$ ,  $B$ ,  $C$ , které jsme určili jako průsečíky tří přímk vedných vrcholy trojúhelníku  $PQR$  kolmo k osám  $PV$ ,  $QV$ ,  $RV$  jeho vnitřních úhlů, leží po řadě na těchto osách. (To pak totiž bude znamenat, že body  $P$ ,  $Q$ ,  $R$  jsou skutečně patami výšek čtyř sestrojených trojúhelníků.) Vysvětlení je snadné: sestrojené tři kolmice jsou osami *vnějších* úhlů trojúhelníku  $PQR$ , takže například bod  $A$  má stejnou vzdálenost od přímek  $PQ$  a  $RQ$  i stejnou vzdálenost od přímek  $PR$  a  $RQ$ , a tak leží na polopřímce  $PV$ . Podobně se vysvětlí potřebné polohy bodů  $B$  a  $C$ . Tím je úplné řešení příkladu 1 ukončeno.

Podané úplné řešení příkladu 1 přináší ještě jedno významné poučení. Podle konstrukce z obr. 5 je bod  $V$  středem kružnice vepsané trojúhelníku

níku  $PQR$ , má tedy od přímek  $PQ$ ,  $PR$  a  $RQ$  stejnou vzdálenost. Jak jsme v závěru řešení dokázali, tuto vlastnost mají i body  $A$ ,  $B$ ,  $C$ , takže jsou středy tří dalších kružnic, které se všech tří přímek  $PQ$ ,  $PR$ ,  $RQ$  dotýkají a kterým říkáme kružnice *připsané* jednotlivým stranám trojúhelníku  $PQR$ . Vidíme je na obr. 6, který ilustruje zajímavý a dosti překvapivý pohled na obecnou ortocentrickou čtveřici bodů. Plyne z našeho řešení příkladu 1 a vyjádříme ho závěrečnou větou 2, kterou jsme již vlastně dokázali. Před tím ještě upřesněme, že kružnici připsanou kupříkladu straně  $AB$  daného trojúhelníku  $ABC$  rozumíme kružnici, která se dotýká strany  $AB$  v jejím vnitřním bodě a současně se dotýká přímek  $AC$  a  $BC$  vně trojúhelníku  $ABC$ .

**Věta 2.** *Každá ortocentrická čtveřice bodů je tvořena středy čtyř kružnic, z nichž jedna je vepsána některému trojúhelníku  $PQR$  a ostatní tři připsány jeho jednotlivým stranám. Naopak každý trojúhelník  $PQR$  takto určuje jedinou ortocentrickou čtveřici  $A$ ,  $B$ ,  $C$ ,  $V$  (obr. 6).*



Obr. 6: Vepsaná a připsané kružnice

Literatura

[1] Altshiller-Court, N.: *College Geometry: An Introduction to the Modern Geometry of the Triangle and the Circle*. Dover publications, New York, 2007.  
 [2] Švrček, J., Vanžura, J.: *Geometrie trojúhelníka*. SNTL, Praha, 1988.